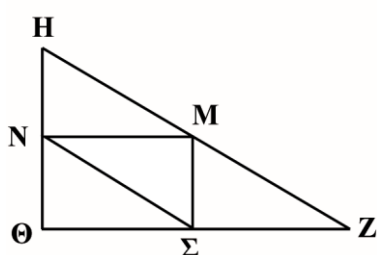

ΤΡΙΓΩΝΑ

ΕΡΩΤΗΣΗ 1: ΤΡΙΓΩΝΑ

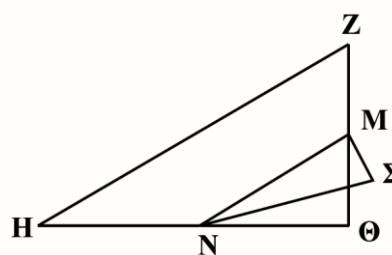
Κυκλώστε το ένα από τα παρακάτω σχήματα που ανταποκρίνεται στην ακόλουθη περιγραφή.

Το τρίγωνο $HZ\Theta$ είναι ορθογώνιο και έχει τη γωνία Θ ορθή. Η πλευρά ΘZ είναι μικρότερη από την $H\Theta$. Το M είναι μέσον της HZ και το N είναι μέσον της $Z\Theta$. Το Σ είναι ένα σημείο στο εσωτερικό του τριγώνου. Το τμήμα MN είναι μεγαλύτερο από το $M\Sigma$.

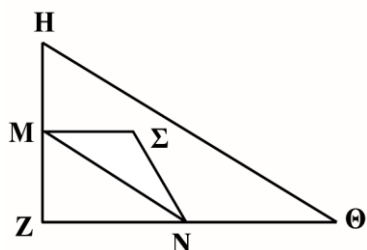
(Α)



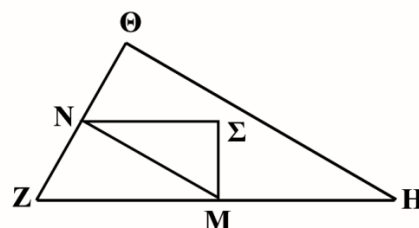
(Β)



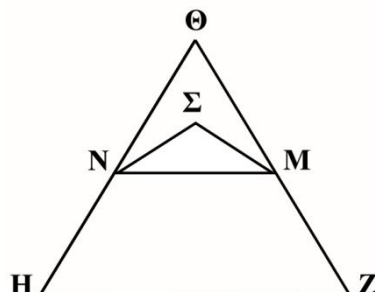
(Γ)



(Δ)



(Ε)



Σημείωση 1. Από Διεθνές Πρόγραμμα για την Αξιολόγηση των Μαθητών - PISA (σελ. 255), από Κέντρο Εκπαιδευτικής Έρευνας, 2007, Αθήνα: Επτάλοφος Α.Β.Ε.Ε.

Σημείωση 2. Θέμα που δόθηκε στους μαθητές/τριες για το Πρόγραμμα PISA 2000 (κυρίως έρευνα).

ΤΡΙΓΩΝΑ

ΟΔΗΓΙΕΣ ΒΑΘΜΟΛΟΓΗΣΗΣ

ΕΡΩΤΗΣΗ 1

Αποδεκτή απάντηση

Δ.

Μη αποδεκτή απάντηση

Άλλες απαντήσεις.